

COMPITI DI ITALIANO - DAL 27 APRILE AL 3 MAGGIO - CLASSE 1^C T.VECELLIO

LEGGI PAGG. 49-50 LAGO BLU LETTURE (ALMENO 3 volte).

COPIA LE SCHEDE SCRITTE DA ME SUL QUADERNO E INCOLLA LE ALTRE PRECEDUTE
DA DATA E GIORNO.

ME STRE 27 APRILE

oggi è lunedì

è primavera

SCI SCE sci sce

LEGGI E CERCHIA


SCI SCE

LUNGO LA RIVA DEL

RUSCELLO, STRISCIA

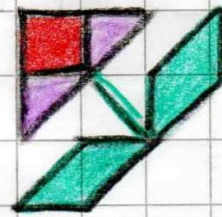

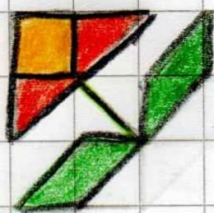
LA BISCIA CON

L' OMBRELLO E



UN PESCE A STRISCE

NUOTA A VALLE.



completa con sci o

sce SCI O SCE



---ARPA

---arpa



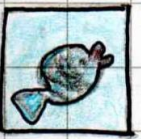
---RIFFO

---eriffo



---ROPPO

---roppo



PE---

pe---

SCI

--- --

sci

--- --

SCE

--- --

sce

--- --

MESTRE 29 APRILE

oggi è mercoledì

è primavera

SCA sca SCO sco SCU

scu LEGGI E CERCHIALI

LA MOSCA NASCOSTA

NEL BOSCO DI SCATTO

SI SCUOTE E SI SCUSA

COSÌ: "SON SCURA E

NOIOSA, MA AMO LA

PESCA, ADORO LA LISCA

DEI PESCI




METTI SCA SCO SCU

s c a s c o s c u



--- PA

--- pa



--- TOLA

--- tola




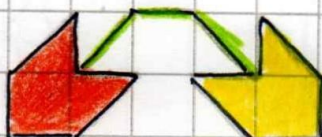

--- DO

--- do



--- LA

--- la



SCI - SCE

COMPLETA LE PAROLE CON **SCI - SCE**.



.....



.....MMIA

.....RIFFO



PE.....



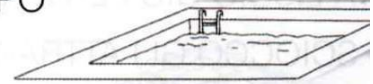
CU.....NO

.....ROPPO

.....VOLO



PI.....NA


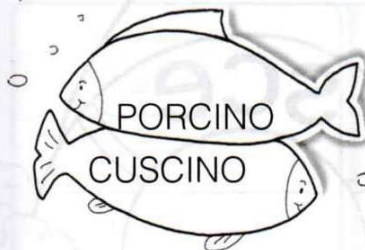
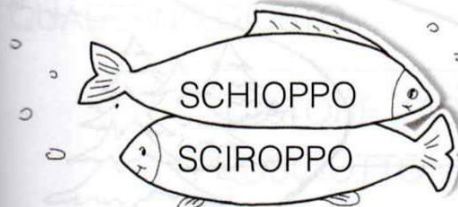
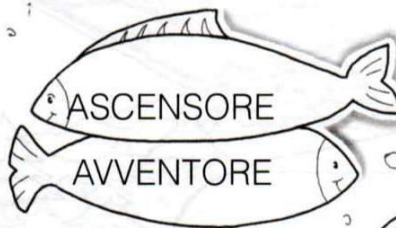



RU.....LLO

A.....NSORE



NELLE COPPIE DI NUVOLETTE COLORA SOLO QUELLA CHE CONTIENE **SCI - SCE**.




SCA - SCO - SCU


COMPLETA IL CRUCIVERBA. COMPLETA POI LE FRASI SOTTO.

- 1 - ASCOLTO UN DI MUSICA ROCK.
- 2 - MI ARRAMPICO SULLA PER APPENDERE IL QUADRO.
- 3 - HO APERTO LA C'ERANO TANTI CIOCCOLATINI.
- 4 - IL CAVALIERE SI DIFENDEVA CON LO
- 5 - UNA MI INFASTIDIVA.
- 6 - HO PRESO LA E HO SPAZZATO TUTTA LA CUCINA.

SCRIVI LE PAROLE AL POSTO DEI DISEGNI.

UNO  VIVEVA IN UN 

E MANGIAVA  ALLE NOCCIOLE.

IL  TIRÒ FUORI L'AMO DALLA

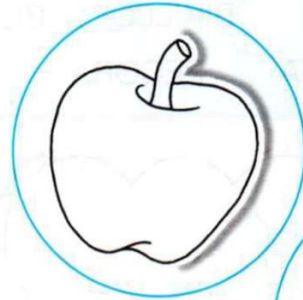
 , GETTÒ LA LENZA MA

PESCÒ SOLO UNA 

M O N

COMPLETA LA FILASTROCCA AGGIUNGENDO AL POSTO DEI PUNTI-
NI **M O N**. DISEGNA A FIANCO I FRUTTI DI CUI SI PARLA.

LAELA È ROSSA E ROTONDA
MAI TRISTE È SEMPRE GIOCONDA.



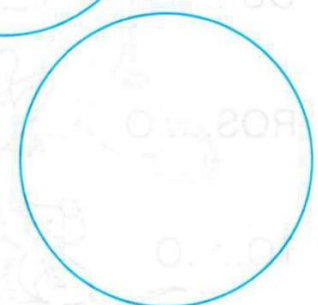
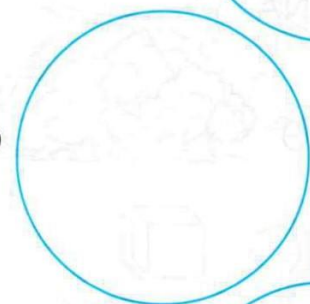

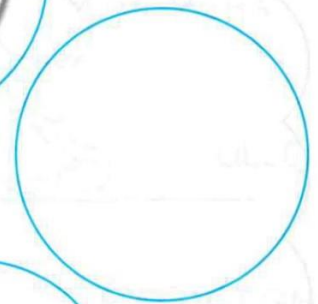
IL PIÙ SIMPATICO È IL.....ELONE
DI CERTO IL SUO COLORE È L'ARA.....CIONE.

UN PO' COMPLICATA LA BA.....A.....A
A MANGIARLA SON PROPRIO UNA FRA.....A!

L'A.....GURIA DI ROSSO VESTITA
È COSÌ BUO.....A CHE È GIÀ FINITA!

LEORE E I LAMPO.....I ANCHE D'AGOSTO
SONO GUSTOSI FRUTTI DI BOSCO.

INFINE IL LI.....O.....E, FRA TUTTI IL PIÙ SCONTROSO,
FORSE DEI DOLCI FRUTTI È SOLO UN PO' GELOSO!



COMPITI DI MATEMATICA SETTIMANA 27 APRILE/3 MAGGIO

CIAO BAMBINI, QUESTA SETTIMANA VI HO PREPARATO LA CASA DEL 7 E IL GRATTACIELO DELL'8: SOLITE RACCOMANDAZIONI, ORMAI LE CONOSCETE A MEMORIA.

VI RACCOMANDO DI RICOPIARE E STUDIARE TUTTE LE COPPIE DI NUMERI AMICI E DI ESERCITARVI CON I GIOCHINI CHE PUBBLICO.

HO AGGIUNTO UNA SCHEDA CON LE ADDIZIONI SULLA LINEA DEI NUMERI (SE NON POTETE STAMPARLA, POTETE RICOPIARLA, TANTO LA LINEA DEI NUMERI NON HA PIU' SEGRETI PER NOI !!)

LE STESSE ADDIZIONI PROVATE POI A RISOLVERLE CON IL METODO CHE VI HO INSEGNATO DURANTE LA VIDEOLEZIONE.

ESEMPIO: $3 + 2 =$

TENGO IL PRIMO NUMERO A MENTE, IL **3**, TIRO FUORI TANTE DITA QUANTE NE INDICA IL SECONDO NUMERO, **2**, E CONTO SULLE DITA CHE HO TIRATO FUORI, A PARTIRE DAL 3 CHE HO TENUTO IN MENTE: 4, 5.

QUINDI, $3 + 2 = 5$

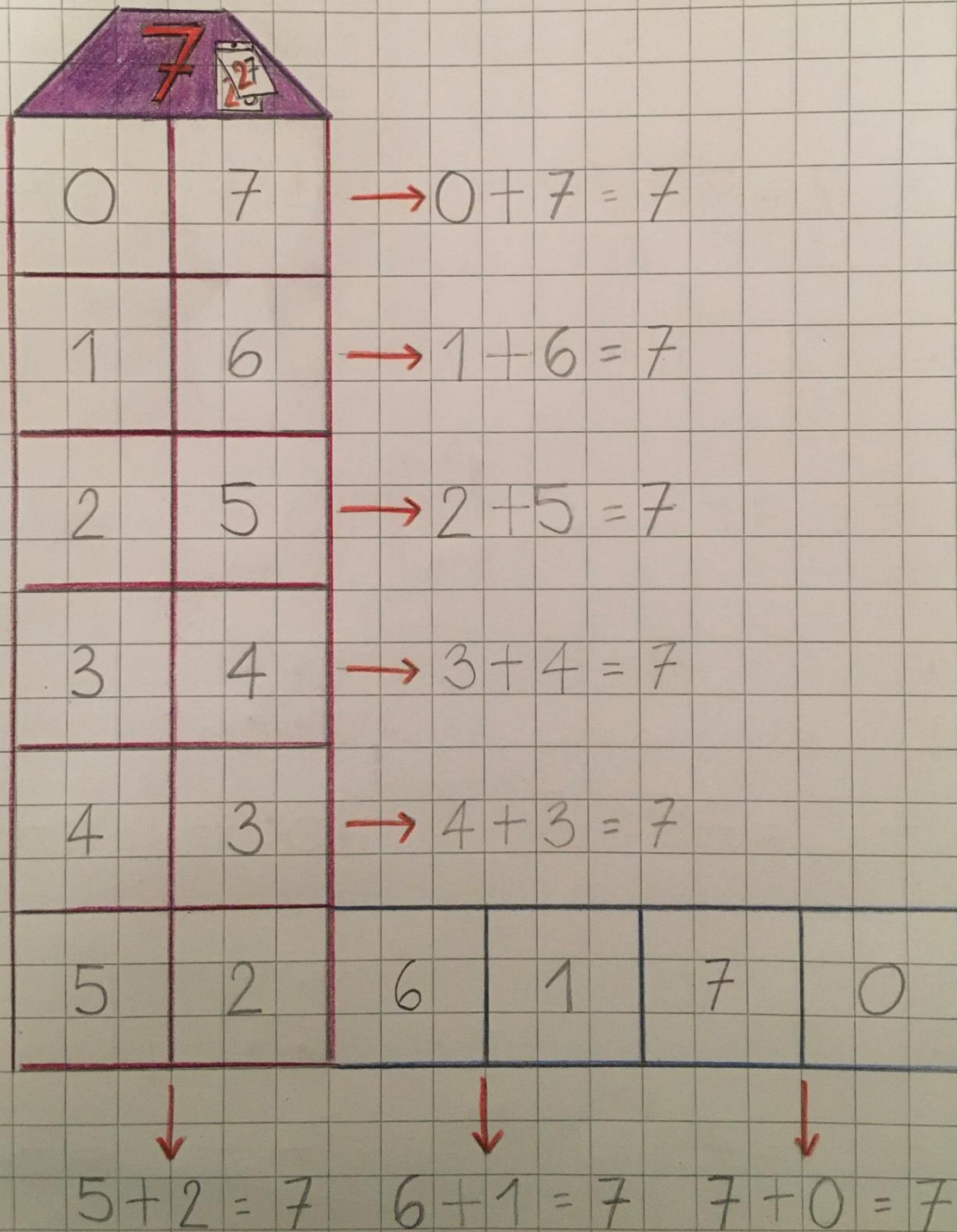
ESERCITATEVI !!

VI ABBRACCIO FORTISSIMO E NON VEDO L'ORA DI RIVEDERVI

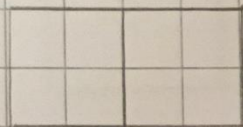
ANNALISA

I NUMERI AMICI DEL 7


QUESTA È LA CASA
DEL 7




COMPLETA IN MODO
CHE IN OGNI SCATOLA
CI SIANO 7 PALLINI



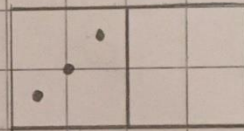
$$0 + 7 = 7$$



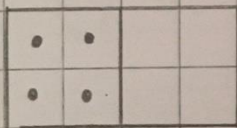
$$1 + \dots = 7$$



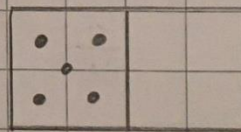
$$2 + \dots = 7$$



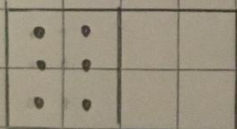
$$3 + \dots = 7$$



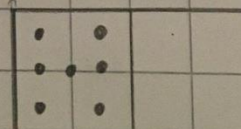
$$4 + \dots = 7$$



$$5 + \dots = 7$$



$$6 + \dots = 7$$

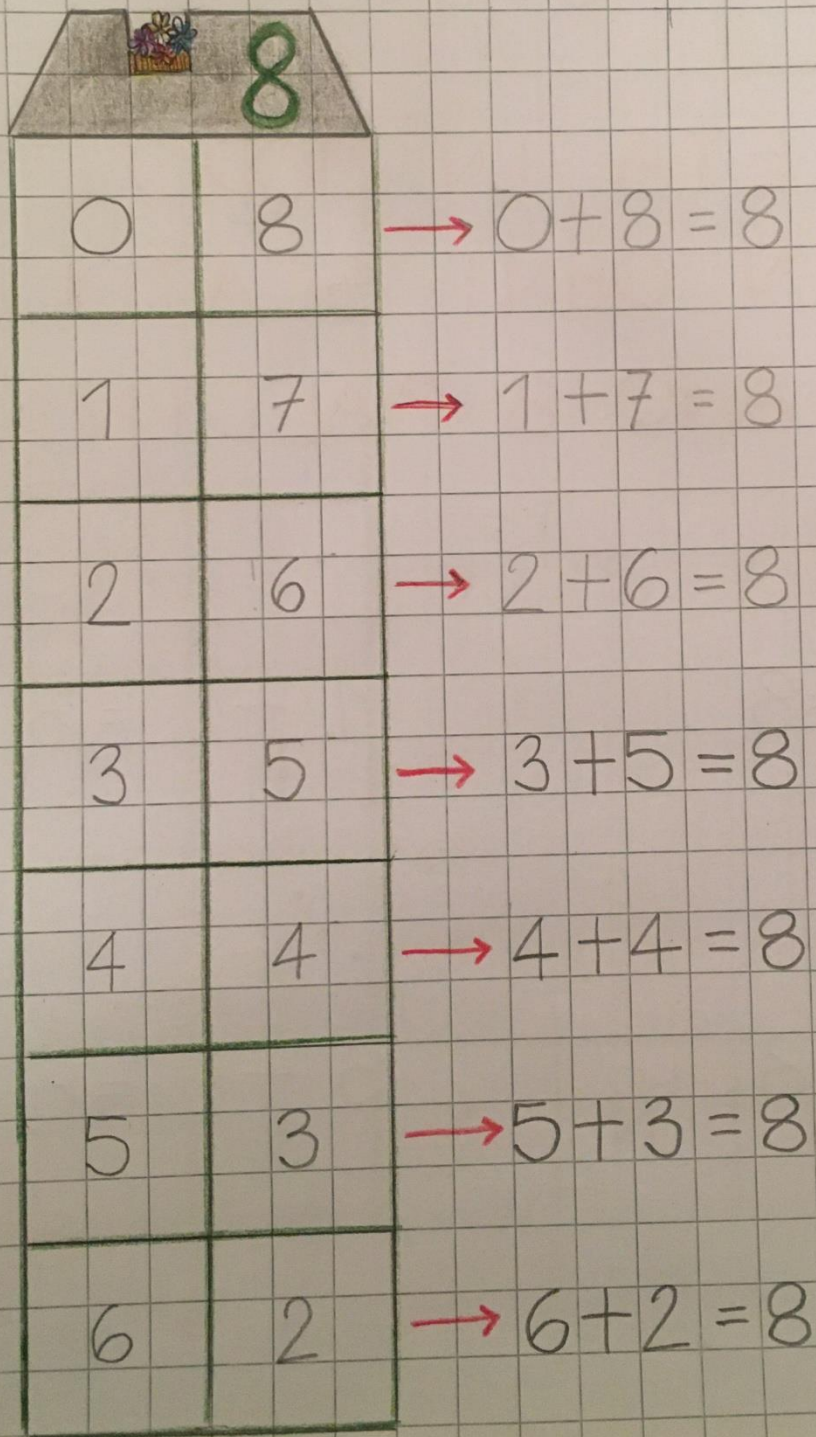


$$7 + \dots = 7$$

I NUMERI AMICI DELL'8

QUESTA È LA CASA

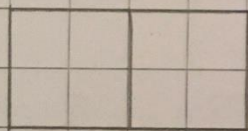
DELL' 8



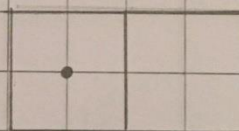
0	8	→	$0 + 8 = 8$
1	7	→	$1 + 7 = 8$
2	6	→	$2 + 6 = 8$
3	5	→	$3 + 5 = 8$
4	4	→	$4 + 4 = 8$
5	3	→	$5 + 3 = 8$
6	2	→	$6 + 2 = 8$

7	1	$\rightarrow 7+1=8$
8	0	$\rightarrow 8+0=8$


COMPLETA IN MODO
CHE IN OGNI SCATOLA
CI SIANO 8 PALLINI



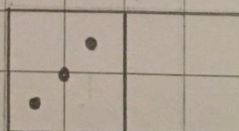
$$0 + 8 = 8$$




$$1 + \dots = 8$$



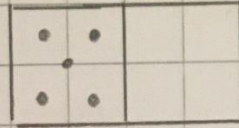
$$2 + \dots = 8$$



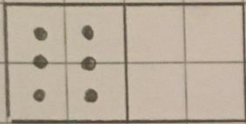
$$3 + \dots = 8$$



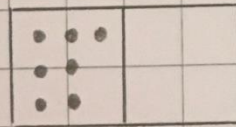
$$4 + \dots = 8$$



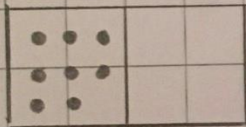
$$5 + \dots = 8$$



$$6 + \dots = 8$$

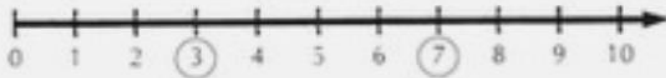


$$7 + \dots = 8$$

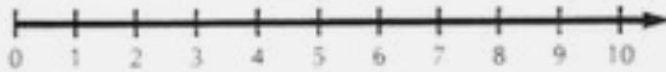


$$8 + \dots = 8$$


1 SALTA IN AVANTI SULLA LINEA DEI NUMERI ED ESEGUI LE ADDIZIONI.




$3 + 4 = \dots\dots\dots$




$2 + 3 = \dots\dots\dots$




$5 + 4 = \dots\dots\dots$




$6 + 2 = \dots\dots\dots$



$0 + 7 = \dots\dots\dots$



$8 + 1 = \dots\dots\dots$



$1 + 4 = \dots\dots\dots$



$4 + 4 = \dots\dots\dots$